

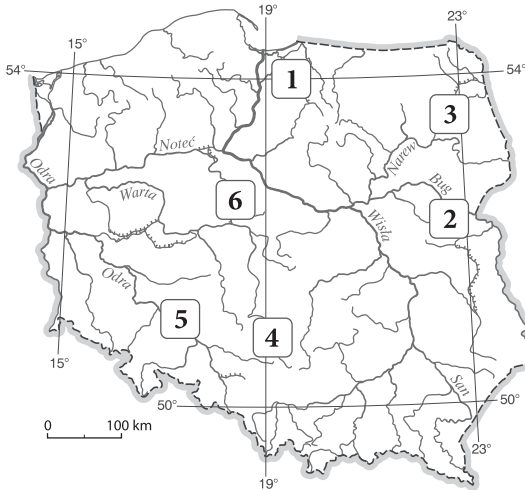
Relacje między elementami środowiska geograficznego

Test sprawdzający – rozdział VII

imię i nazwisko

klasa data

1 Na podstawie mapy wybierz zestaw zawierający numery, którymi oznaczono na mapie obszary najbardziej narażone na niebezpieczeństwo powodzi. **0-1 p.**

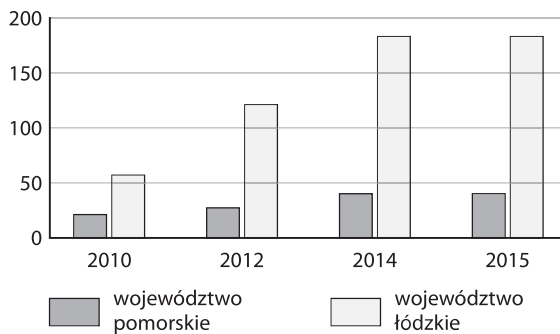


- A. 1, 2 B. 3, 4 C. 2, 6 D. 1, 5

2 Podkreśl właściwe informacje w poniższych zdaniach. **0-2 p.**

- A. Fala powodziowa może spowodować *splęcenie / pogłębienie* koryta rzecznego.
- B. W wyniku katastrofalnej powodzi w dorzeczu Wisły / Odry w 1997 roku zginęło 56 osób.

3 Poniższy wykres przedstawia liczbę farm wiatrowych w województwach pomorskim i łódzkim. Zapisz dwa wnioski dotyczące województwa pomorskiego. **0-2 p.**



• _____

• _____

4 Podkreśl dwie cechy, które charakteryzują obecnie konurbację katowicką. **0-2 p.**

- A. Ponad 30% osób pracuje w przemyśle i budownictwie.
- B. Ważną rolę odgrywa tam przemysł hutniczy.
- C. Produkuje się tam samochody osobowe.
- D. Większość zakładów przemysłowych jest własnością państwa.

5 Wybierz odpowiedź A lub B i jej uzasadnienie 1. albo 2. **0-1 p.**

W strefach podmiejskich saldo migracji jest

A.	ujemne,	ponieważ	1.	na te obszary przenoszą się ludzie, którzy chcą uciec od wielkomiejskiego zgiełku i poprawić warunki mieszkaniowe.
B.	dodatnie,		2.	ludzie przenoszą się z nich do sąsiednich miast, w których ceny mieszkań są dużo niższe.

6 Skreśl czynniki, które nie mają wpływu na lokalizację firmy spedycyjnej. **0-1 p.**

- położenie w pobliżu węzła autostradowego, dostęp do sieci kolejowej, duża liczba zabytków, bliskość miasta, dostęp do lotniska, duże usłonecznienie*

7 Na fotografii przedstawiono jedną z atrakcji turystycznych województwa małopolskiego. Uzupełnij zdania. **0-2 p.**



Fotografia przedstawia _____
 _____ . Jest to obiekt wpisany
 na _____ .

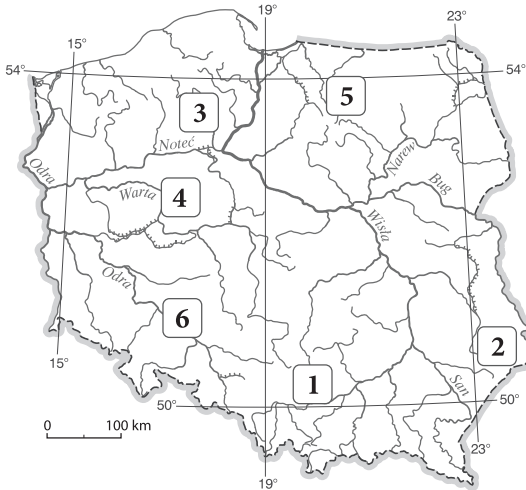
Relacje między elementami środowiska geograficznego

 imię i nazwisko

 klasa data

Test sprawdzający – rozdział VII

1 Na podstawie mapy wybierz zestaw zawierający numery, którymi oznaczono na mapie obszary najbardziej narażone na niebezpieczeństwo powodzi. **0-1 p.**

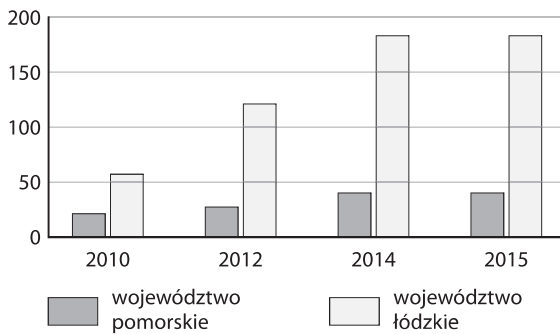


- A. 1, 2 B. 3, 4 C. 1, 6 D. 3, 5

2 Podkreśl właściwe informacje w poniższych zdaniach. **0-2 p.**

- A. Dwie katastrofalne powodzie w Polsce (z 1997 i 2010 r.) były wywołane *intensywnym topnieniem śniegu / intensywnymi opadami deszczu*.
- B. Powódź *wpływa / nie wpływa* na jakość wód gruntowych.

3 Poniższy wykres przedstawia liczbę farm wiatrowych w województwach pomorskim i łódzkim. Zapisz dwa wnioski dotyczące województwa łódzkiego. **0-2 p.**



- _____
- _____

4 Podkreśl dwie cechy, które charakteryzują obecnie aglomerację łódzką. **0-2 p.**

- A. Około 40% osób pracuje w sektorze usługowym.
 B. Jest uznawana za stolicę polskiego włókiennictwa.
 C. W Łodzi działają fabryki sprzętu AGD.
 D. Więcej ludzi pracuje w przemyśle niż w usługach.

5 Wybierz odpowiedź A lub B i jej uzasadnienie 1. albo 2. **0-1 p.**

W strefach podmiejskich odsetek ludzi w najmłodszych grupach wiekowych

A.	rośnie,	ponieważ	1.	wyjeżdżają z nich przede wszystkim ludzie starsi.
B.	maleje,		2.	osiedlają się tam głównie ludzie młodzi.

6 Podkreśl czynniki, które mają największy wpływ na lokalizację centrów logistycznych. **0-1 p.**

- dostęp do surowców mineralnych, bliskość miasta, położenie w pobliżu parku narodowego, górzysty teren, dogodne położenie komunikacyjne*

7 Na fotografii przedstawiono jedną z atrakcji turystycznych województwa pomorskiego. Uzupełnij zdania. **0-2 p.**



Fotografia przedstawia _____
 _____ . Jest to obiekt wpisany
 na _____ .